



РІВЕНЬ 1

МАТЕМАТИЧНІ ВПРАВИ

3

ЇЖАЧКОМ-РОЗУМНИЧКОМ









БЕЗКОШТОВНІ PDF РОЗДРУКІВКИ

*Всі дитячі розважальні завдання,
розмальовки та інші веселі матеріали*


WWW.EBOOKS4UKRKIDS.ORG/UK/




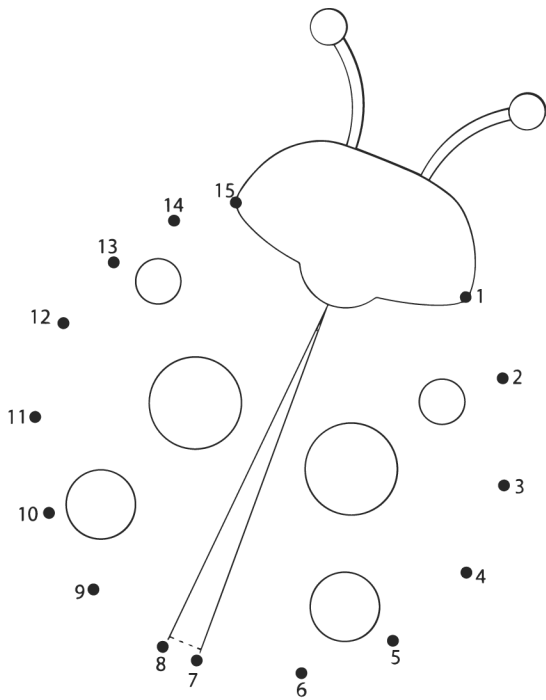
ПОРАХУЙТЕ ТВАРИН І ВПИШИ ЧИСЛА В КЛІТКИ



ПОРАХУЙ ТА ВПИШИ РЕЗУЛЬТАТ В КЛІТИНКИ



З'єднайте крапки від цифри 1 і далі, і побачиш, які тварини навчаються в школі з їжачком-розумничком. Розмалюй тваринок.



Більше PDF Роздруківок на нашому сайті

www.ebooks4ukrkids.org/uk/rozdrukivky-dlia-ditei/



Відскануй
QR-код

РОЗВ'ЯЖИ ЗАДАЧКИ



На галявині гралося 7 зайчат. 4 зайчати побігли додому. Скільки зайчат залишилось?

$$7 - 4 = \square$$

Слоненятку знадобилось принести 5 маленьких відер і 3 великих відра піску, щоб побудувати гарний замок з піску. Скільки всього відер піску він використав?

$$5 + 3 = \square$$





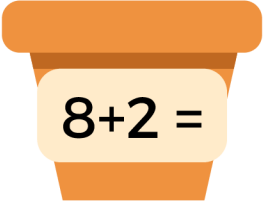
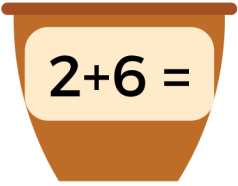




Рибалка зловив 4 риби. Половину свого улову він віддав другові. Скільки риб він залишив собі?

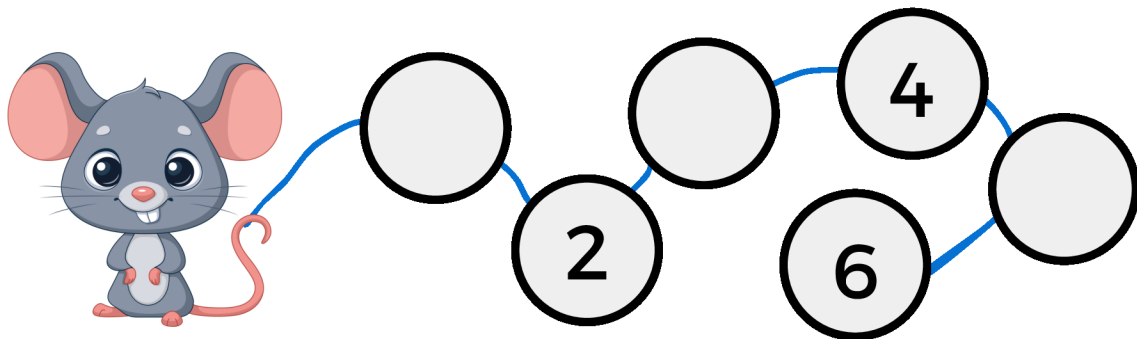
$$4 - 2 = \square$$



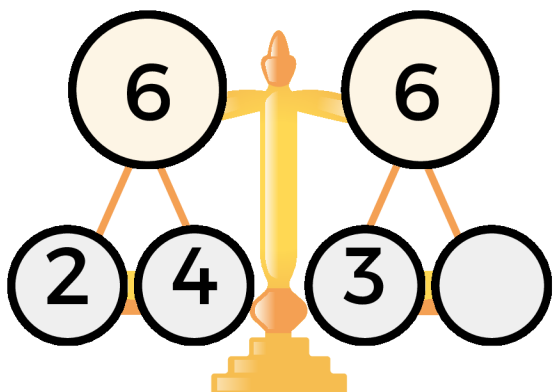
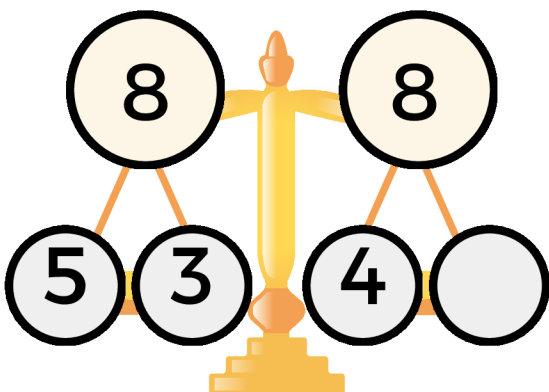
РОЗВ'ЯЖІТЬ РІВНЯННЯ, ЩОБ ПІДБРАТИ ПРАВИЛЬНИЙ КВІТКОВИЙ ГОРЩИК ДЛЯ КВІТКИ

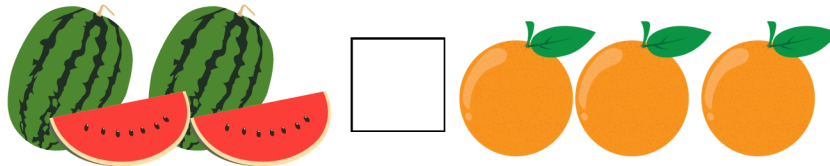





ВПИШИ ПРОПУЩЕНІ ЧИСЛА



НАПИШИ ЧИСЛА, ЯКІ ДОПОМОЖУТЬ ТРИМАТИ ВАГИ В РІВНОВАЗІ

	
---	--

ВИРІШИ ЧОГО БІЛЬШЕ, МЕНШЕ ЧИ РІВНО?



РОЗВ'ЯЖИ ЗАДАЧУ І ЗАПИШИ ВІДПОВІДЬ

На галявині гуляло 2 динозаврики. До них в гості прийшло ще 4 друга-динозавра. Скільки динозаврів зараз гуляє на галявині?

БУЛО ДИНОЗАВРА.

ДИНОЗАВРІВ ПРИЙШЛО.

ДИНОЗАВРІВ СТАЛО.

$$\square + \square = \square$$

