



**РІВЕНЬ 2**  
**2-3 КЛАС**

# **МАТЕМАТИЧНІ ВПРАВИ**

**3**

**ЇЖАЧКОМ-РОЗУМНИЧКОМ**




**БЕЗКОШТОВНІ PDF РОЗДРУКІВКИ**

*Всі дитячі розважальні завдання,  
розмальовки та інші веселі матеріали*


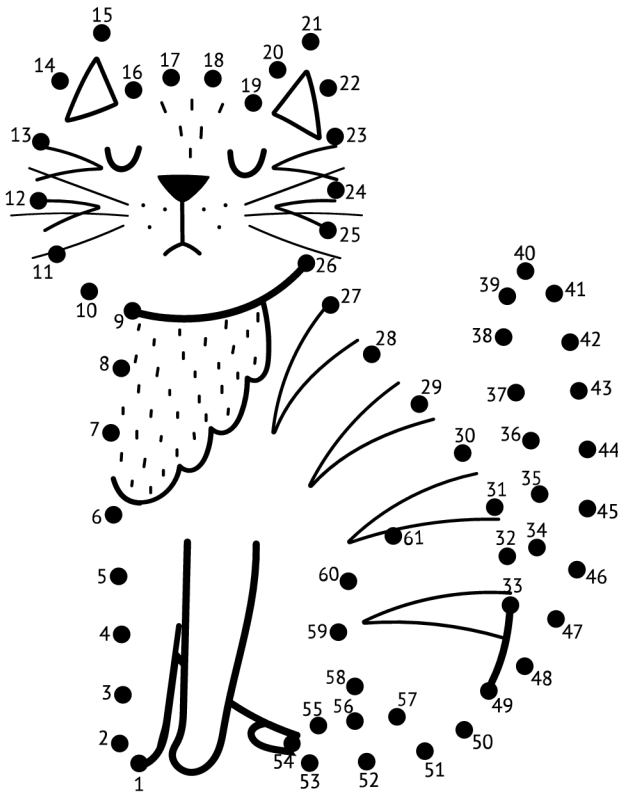
**[WWW.EBOOKS4UKRKIDS.ORG/UK/](http://WWW.EBOOKS4UKRKIDS.ORG/UK/)**



## ПОРАХУЙ ТА ВПИШИ РЕЗУЛЬТАТ В КЛІТКИ



**З'ЄДНАЙТЕ КРАПКИ ВІД ЦИФРИ 1 І ДАЛІ, І ПОБАЧИШ, ЯКІ ТВАРИНИ НАВЧАЮТЬСЯ В ШКОЛІ З ІЖАЧКОМ-РОЗУМНИЧКОМ. РОЗМАЛЮЙ ТВАРИНОК.**




Більше PDF Роздруківок на нашому сайті

[www.ebooks4ukrkids.org/uk/rozdrukivky-dlia-ditei/](http://www.ebooks4ukrkids.org/uk/rozdrukivky-dlia-ditei/)





Відскануй  
QR-код

**ПОРАХУЙ ТА ВПИШИ РЕЗУЛЬТАТ В КЛІТІНКИ**



**ВГАДАЙТЕ, ЩО МАЄ БУТИ В ПОРОЖНІЙ КЛІТІНЦІ**



Більше PDF Роздруківок на нашому сайті

[www.ebooks4ukrkids.org/uk/rozdrukivky-dlia-ditei/](http://www.ebooks4ukrkids.org/uk/rozdrukivky-dlia-ditei/)



Відскануй  
QR-код



## РОЗВ'ЯЖИ ЗАДАЧКУ

Івасик відповідальний за роздачу дітям квитків на шкільну виставу. Він має роздати 83 квитка. Він роздав 15 квитків, загубив 5 квитків, 3 квитки з'їв собака, а 4 квитки він залишив для своєї родини. Скільки ще квитків має роздати Івасик?

**РОЗВ'ЯЖИ РІВНЯННЯ І ЗНАЙДИ БУКВУ, ЯКА ВІДПОВІДАЄ ЧИСЛУ.  
СПРОБУЙТЕ ВГАДАТИ ЗАШИФРОВАНУ НАЗВУ.**



Н 1	М 2	Д 3
А 5	О 12	К 14
П 21		



$6 \times 2 + 2 = \square \square$

$2 \times 2 + 8 = \square \square$

$3 \times 2 - 4 = \square \square$

$2 \times 2 + 1 = \square \square$

$2 \times 5 - 9 = \square \square$

$2 \times 4 - 5 = \square \square$

$2 \times 2 + 1 = \square \square$

Приклад:

$3 \times 6 + 3 = 21 \quad \text{П}$

$2 \times 2 + 1 = 5 \quad \text{А}$

$2 \times 5 - 9 = 1 \quad \text{Н}$

$2 \times 4 - 5 = 3 \quad \text{Д}$

$2 \times 2 + 1 = 5 \quad \text{А}$

## РОЗВ'ЯЖИ ЗАДАЧКИ



Дуб старший за березу на 23 роки.  
Березі 55 років. Скільки років дубу?


$$\_ + \_ = \square$$

Слон використав 25 маленьких відер  
і 13 великих відер піску, щоб  
побудувати замок з піску. Скільки  
всього відер піску він використав?



$$\_ + \_ = \square$$

Рибалка зловив 4 риби, а його  
друг зловив у 3 рази більше риби,  
ніж рибалка. Скільки рибин спіймав  
друг рибалки?



$$\_ \times \_ = \square$$



Принцеса Попелюшка за 3 години  
може посадити 15 кущів троянд.  
Скільки кущів троянд посадить  
Попелюшка за 1 годину часу?

$$\_ : \_ = \square$$

## РОЗВ'ЯЖИ РІВНЯННЯ

$45 - (5 \times 6) = \square$



$(27 : 3) + 28 = \square$

ЩО БІЛЬШЕ,  
МЕНШЕ ТА  
РІВНО?

$16 : 2 = \begin{matrix} > < = \end{matrix} 16 : 6 =$

$18 - 6 = \begin{matrix} > < = \end{matrix} 24 - 4 =$

$4 \times 2 = \begin{matrix} > < = \end{matrix} 2 \times 4 =$



## РОЗВ'ЯЖИ ЗАДАЧКУ

Мама важила на вагах різні овочі і фрукти:  
7кг помідорів, 8 кг яблук та 5 кг груш.  
Яка вага овочів та фруктів на вагах зараз?

НАМАЛЮЙТЕ М'ЯЧІВ У 2 РАЗИ БІЛЬШЕ, НІЖ АВТОМОБІЛІВ ТУТ

